

Name: \_\_\_\_\_

Klasse: \_\_\_\_\_


# Mathematikwettbewerb der Grundschule Weißig für die Klassen 1 und 2

## Problem des Monats

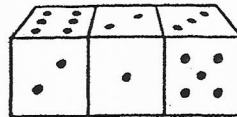
Februar 2019



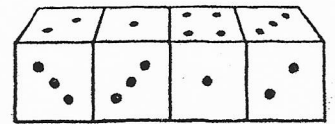
Augensumme  
Rückseite: \_\_\_\_\_



Augensumme  
Unterseite: \_\_\_\_\_




Augensumme  
Unterseite: \_\_\_\_\_



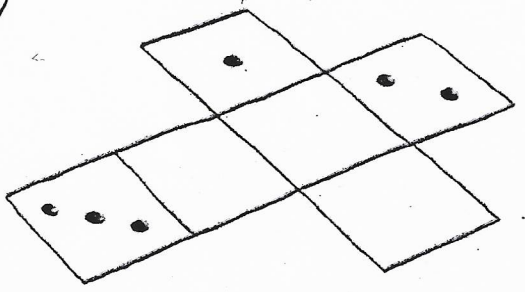

Die gegenüberliegenden Augenzahlen ergeben zusammen immer 7.

Augensumme:  
Zähle alle Würfelaugen zusammen.

Augensumme  
Vorderseite und  
Rückseite: \_\_\_\_\_



Augensumme  
Würfel: \_\_\_\_\_



Baue nach.  
Erfinde weitere Aufgaben.